

Lecciones en el Mapamundi

Actividad 6: Leyendas Físico y Símbolos en el Mapa

Objetivo Identificar y usar las leyendas y símbolos del mapa.

Materiales Necesarios Lápiz y el Mapamundi Físico Cram

Leyenda en un Mapa



Usted debería chequear las leyendas de cada mapa antes de usarlo. La leyenda le permitirá saber qué tipo de información puede encontrarse en un mapa y cuáles símbolos se usan para representar aquella información. Muchos mapas usan los mismos símbolos normales, pero los símbolos pueden cambiar de mapa a mapa. Algunos mapas tienen más de una leyenda.

Símbolos de Punto

Un mapa político muestra países en diferentes colores. Estos mapas generalmente tienen más símbolos realizados por el hombre que mapas físicos (colores de elevación).

??? Usar la leyenda del mapa y el mapa para contestar las siguientes preguntas.

1. Hacer coincidir el símbolo de mapa en su descripción, trazar el símbolo al lado de la Descripción.

A) ● B) City C)  D) ■ E) ▲ F) 

<u>Símbolo</u>	<u>Descripción</u>	<u>Símbolo</u>	<u>Descripción</u>
_____	Ciudad sobre 5,000,000	_____	Cascada de Agua
_____	Capital de Ciudad	_____	Represa
_____	Ciudad de 1,000,000 a 5,000,000	_____	Pico de montaña

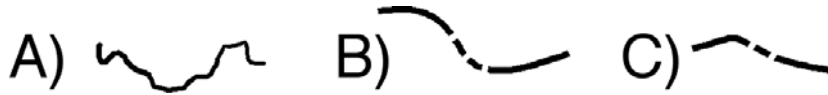
2. ¿Qué represa forma el Lago Nasser en Egipto (África)? _____
3. ¿Cuál es la población de París, Francia (Europa)? _____
4. ¿Qué catarata esta localizada entre Zambia y Zimbabwe (África Central Sur)? _____
5. Nombrar la catarata en Venezuela (América del Sur) que tiene 3.212 pies de alto y es la catarata más alta del mundo. _____
6. Nombrar las dos ciudades Brasileñas (América del Sur) con poblaciones sobre 5.000.000 _____
7. ¿Cuál es el nombre de la represa localizada cerca de las fronteras de Brasil, Paraguay y Argentina (América del Sur)? _____
8. La India tiene la segunda población más grande, pero tiene una ciudad capital relativamente pequeña. Nombrar la ciudad capital y su población. _____

Símbolos de Línea

Un símbolo de línea representa un rasgo del mapa que tiene la característica de longitud. Ríos y fronteras son comúnmente señalados como símbolos de línea.

???. Usar la leyenda del mapa y el mapa para contestar las siguientes preguntas.

9. Hacer coincidir el símbolo de mapa en su descripción, trazar el símbolos al lado de la descripción.



<u>Símbolo</u>	<u>Descripción</u>
_____	Frontera de País
_____	Río
_____	Frontera Continental

10. El monte Kilimanjaro es la montaña más alta en África. Cerca de qué frontera entre dos países de África Oriental se encuentra? _____

11. La frontera continental más larga está entre Europa y Asia y va desde el Océano Ártico al Mar Caspio. ¿Cuáles son los dos países que corta?

12. ¿Por cuáles dos ríos principales está irrigada la legión baja y verde de Rusia que se encuentra al este de las Montañas Urales? _____

13. El Brasil comparte su frontera como país con 10 de los otros 12 países de América del Sur. ¿Cuáles dos países no tienen frontera con Brasil? _____

14. ¿Entre Cuáles dos naciones está la frontera continental entre Norte y Sur América?

15. ¿Cuáles dos países comparte la isla más grande del mundo, Nueva Guinea?
_____ -- _____